

WYPEŁNIA ZDAJĄCY

KOD

--	--	--

PESEL

--	--	--	--	--	--	--	--	--	--	--	--

Miejsce na naklejkę.
Sprawdź, czy kod na naklejce to
E-100.

Jeżeli tak – przyklej naklejkę.
Jeżeli nie – zgłoś to nauczycielowi.

EGZAMIN MATURALNY Z CHEMII

POZIOM ROZSZERZONY

DATA: **11 czerwca 2021 r.**

GODZINA ROZPOCZĘCIA: **9:00**

CZAS PRACY: **180 minut**

LICZBA PUNKTÓW DO UZYSKANIA: **60**

Instrukcja dla zdającego

1. Sprawdź, czy arkusz egzaminacyjny zawiera 22 strony (zadania 1–38).
Ewentualny brak zgłoś przewodniczącemu zespołu nadzorującego egzamin.
2. Odpowiedzi i rozwiązania zapisz w miejscu na to przeznaczonym przy każdym zadaniu.
3. W rozwiązaniach zadań rachunkowych przedstaw tok rozumowania prowadzący do ostatecznego wyniku oraz pamiętaj o jednostkach.
4. Pisz czytelnie. Używaj długopisu/pióra tylko z czarnym tuszem/atramentem.
5. Nie używaj korektora, a błędne zapisy wyraźnie przekreśl.
6. Pamiętaj, że zapisy w brudnopisie nie będą oceniane.
7. Na tej stronie oraz na karcie odpowiedzi wpisz swój numer PESEL i przyklej naklejkę z kodem.
8. Nie wpisuj żadnych znaków w części przeznaczonej dla egzaminatora.
9. Możesz korzystać z *Wybranych wzorów i stałych fizykochemicznych na egzamin maturalny z biologii, chemii i fizyki*, linijki oraz kalkulatora prostego.



ECHP-R0-**100**-2106

Zadanie 3. (0–2)

Zidentyfikuj pierwiastki chemiczne na podstawie podanych niżej opisów konfiguracji atomów lub jonów w stanie podstawowym. Wpisz ich symbole do tabeli.

Opis konfiguracji	Symbol pierwiastka
Konfiguracja elektronowa dwudodatniego jonu tego pierwiastka jest taka sama jak konfiguracja elektronowa atomu argonu.	
Ten pierwiastek należy do bloku <i>p</i> . Elektrony w atomie tego pierwiastka (w stanie podstawowym) rozmieszczone są na czterech powłokach elektronowych, a na <u>podpowłoce <i>p</i></u> powłoki walencyjnej liczba elektronów sparowanych jest równa liczbie elektronów niesparowanych.	
Elektrony w atomie tego pierwiastka są rozmieszczone na czterech powłokach elektronowych. W stanie podstawowym liczba elektronów na podpowłoce <i>d</i> jest taka sama jak liczba elektronów na powłoce o najwyższej energii.	

Zadanie 4.

Fosforowodór PH_3 to związek o temperaturze topnienia równej $-133\text{ }^\circ\text{C}$ i temperaturze wrzenia równej $-88\text{ }^\circ\text{C}$ (pod ciśnieniem atmosferycznym). W skroplonym fosforowodrze oddziaływania międzycząsteczkowe są dużo słabsze niż w skroplonym amoniaku.

Na podstawie: L. Kolditz (red.), *Chemia nieorganiczna*, Warszawa 1994.

Zadanie 4.1. (0–1)

Na podstawie różnicy elektroujemności między fosforem a wodorem oraz informacji wprowadzającej uzupełnij poniższe zdania. Wybierz i zaznacz jedną odpowiedź spośród podanych w każdym nawiasie.

Cząsteczka fosforowodoru PH_3 ma kształt (trójkąta równobocznego / liniowy / piramidy o podstawie trójkąta). Wiązanie w PH_3 ma charakter (jonowy / kowalencyjny).

Zadanie 4.2. (0–1)

Uzupełnij poniższe zdania. Wybierz i zaznacz jedną odpowiedź spośród podanych w każdym nawiasie.

Temperatura wrzenia skroplonego amoniaku jest (wyższa / niższa) niż temperatura wrzenia fosforowodoru. Bardzo dobra rozpuszczalność (fosforowodoru / amoniaku) w wodzie jest spowodowana silnym oddziaływaniem między cząsteczkami tego związku a cząsteczkami wody i tworzeniem się między nimi wiązań wodorowych.

Zadanie 5. (0–1)

Poniżej przedstawiono wzory elektronowe cząsteczek dwóch pierwiastków, oznaczonych umownie literami A i D. Oba pierwiastki należą do drugiego okresu układu okresowego.

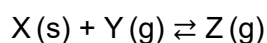


Zidentyfikj pierwiastki A i D, a następnie uzupełnij poniższe zdania. Wybierz i zaznacz jedną odpowiedź spośród podanych w każdym nawiasie.

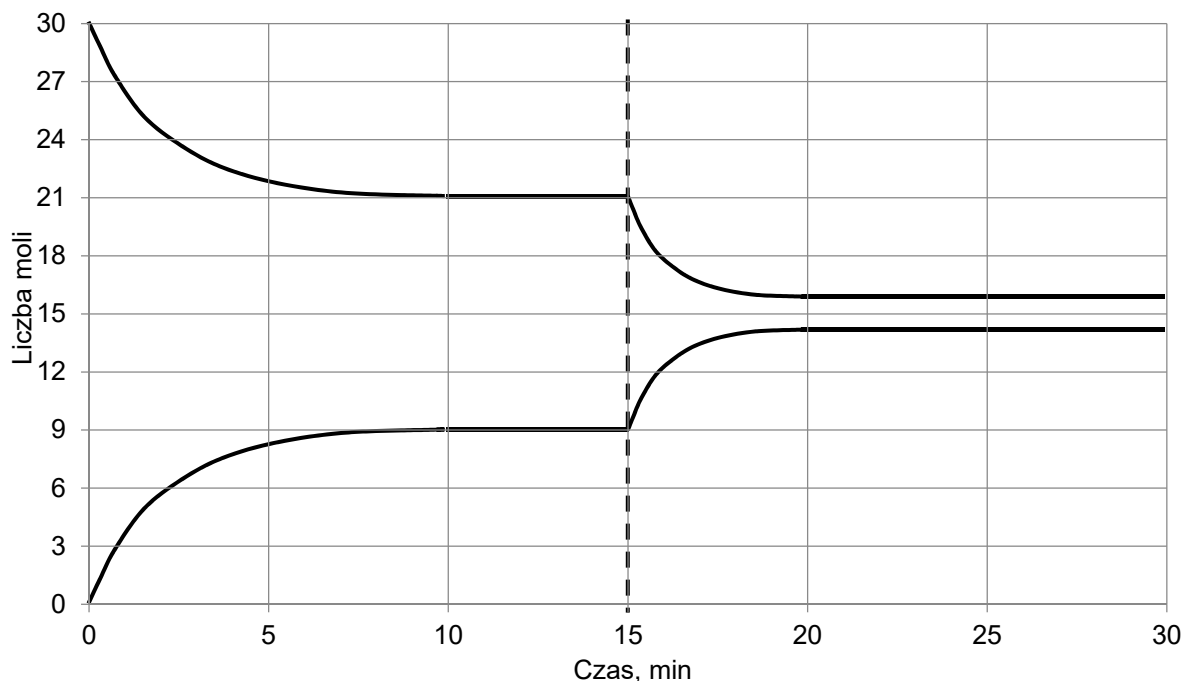
Większy ładunek jądra ma atom pierwiastka oznaczonego literą (A / D). Mniejszy promień atomowy ma atom pierwiastka oznaczonego literą (A / D).

Informacja do zadań 6.–9.

Do reaktora, w którym znajdowała się stała substancja X, wprowadzono pod ciśnieniem atmosferycznym gazową substancję Y i zapoczątkowano reakcję chemiczną, w wyniku której powstawał gaz Z. Po 10 minutach, w temperaturze T_1 , ustaliła się równowaga opisana równaniem:



Na wykresie przedstawiono wyniki pomiaru liczby moli gazowych reagentów w trakcie trwania procesu oraz po ustaleniu się stanu równowagi w temperaturze T_1 . W piętnastej minucie eksperymentu zmieniono w układzie temperaturę na T_2 wyższą od T_1 , czego konsekwencją było ustalenie się nowego stanu równowagi po dwudziestu minutach eksperymentu, co także zilustrowano na poniższym wykresie.



Zadanie 6. (0–1)

Rozstrzygnij, czy w temperaturze T_2 – w porównaniu z przemianą zachodzącą w temperaturze T_1 – następuje:

- wzrost szybkości reakcji tworzenia substancji Z;
- spadek szybkości reakcji rozkładu substancji Z.

Odpowiedzi uzasadnij.

Zadanie 7. (0–1)

Rozstrzygnij, czy reakcja tworzenia związku Z jest procesem endoenergetycznym. Odpowiedź uzasadnij.

Rozstrzygnięcie:

Uzasadnienie:

Zadanie 8. (0–1)

Napisz wyrażenie na stężeniową stałą równowagi reakcji tworzenia związku Z i oszacuj jej wartość w temperaturze T_1 . Uwzględnij fakt, że w wyrażeniu na stałą równowagi tej reakcji pomija się stężenie substancji stałej.

Wyrażenie na stałą równowagi:

Oszacowana wartość stałej równowagi:

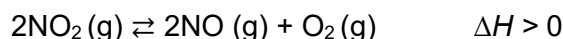
Zadanie 9. (0–1)

Uzupełnij poniższe zdanie. Wybierz i zaznacz jedną odpowiedź spośród podanych w nawiasie.

Wraz ze zmniejszeniem ciśnienia w układzie w warunkach izotermicznych wydajność reakcji otrzymywania substancji Z (wzrośnie / zmaleje / się nie zmieni).

Zadanie 10. (0–2)

W zamkniętym zbiorniku znajdowała się pewna ilość NO_2 . W temperaturze 800 K gaz ulegał rozkładowi zgodnie z równaniem:



Po ustaleniu się stanu równowagi w naczyniu znajdowało się 90 g tlenku azotu(II). Wydajność rozkładu NO_2 wyniosła 60%.

Na podstawie: W. Mizerski, *Tablice chemiczne*, Warszawa 2008.

Określ:

- stosunek molowy tlenków azotu w zbiorniku w stanie równowagi;
- liczbę moli tlenu w zbiorniku w stanie równowagi;
- masę tlenku azotu(IV) wprowadzonego do zbiornika przed zainicjowaniem reakcji – w gramach.

Stosunek molowy $n_{\text{NO}_2} : n_{\text{NO}} = \dots\dots\dots : \dots\dots\dots$

Liczba moli tlenu $n_{\text{O}_2} = \dots\dots\dots$ mol

Masa tlenku azotu(IV) przed zainicjowaniem reakcji $m_{\text{NO}_2} = \dots\dots\dots$ g

Informacja do zadań 11.–14.

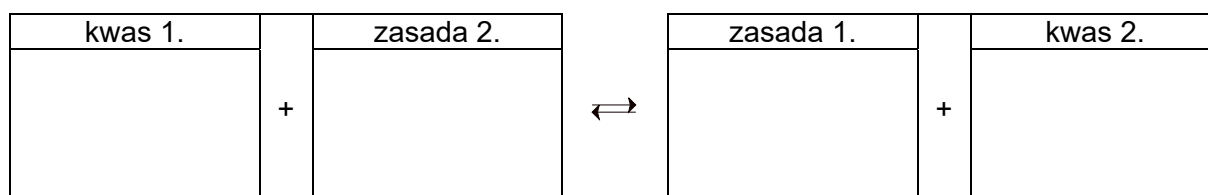
Skroplony amoniak jest rozpuszczalnikiem, który – podobnie jak woda – ulega autodysocjacji polegającej na przeniesieniu protonu między cząsteczkami rozpuszczalnika. Rezultatem tego procesu jest powstanie kationów NH_4^+ i anionów NH_2^- .

Wszystkie substancje chemiczne, które w skroplonym amoniaku zwiększają stężenie kationów NH_4^+ , w tych warunkach są kwasami, a te związki chemiczne, które w skroplonym amoniaku zwiększają stężenie anionów NH_2^- , są zasadami. Zbojętnianie w skroplonym amoniaku polega na reakcji kationów NH_4^+ i anionów NH_2^- z wytworzeniem cząsteczek NH_3 .

Na podstawie: L. Kolditz (red.), *Chemia nieorganiczna*, Warszawa 1994.

Zadanie 11. (0–1)

Napisz równanie autodysocjacji amoniaku – zastosuj definicję kwasu i zasady Brønsteda. Wpisz wzory odpowiednich drobin do schematu.



Zadanie 12. (0–1)

Napisz w formie cząsteczkowej równanie reakcji zobojętniania zachodzącej w skroplonym amoniaku między bromkiem amonu NH_4Br a amidkiem wapnia $\text{Ca}(\text{NH}_2)_2$.

.....

Zadanie 13. (0–2)

Amidek cynku o wzorze $\text{Zn}(\text{NH}_2)_2$ nie rozpuszcza się w skroplonym amoniaku. Ten związek łatwo reaguje z chlorkiem amonu rozpuszczonym w skroplonym amoniaku, a także z amidkiem potasu o wzorze KNH_2 . Oznacza to, że amidek cynku ma charakter amfoteryczny. Produktem reakcji z amidkiem potasu – użytym w nadmiarze – jest jon kompleksowy o liczbie koordynacji równej 4, w którym jony amidkowe NH_2^- pełnią funkcję ligandów.

Na podstawie: J.D. Lee, *Związła chemia nieorganiczna*, Warszawa 1999.

Napisz:

- w formie jonowej skróconej równanie reakcji zachodzącej w skroplonym amoniaku między amidkiem cynku a chlorkiem amonu;

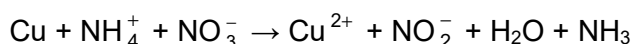
.....

- w formie cząsteczkowej równanie reakcji zachodzącej w skroplonym amoniaku między amidkiem cynku a amidkiem potasu użytym w nadmiarze.

.....

Zadanie 14. (0–2)

W ciekłym amoniaku azotan(V) amonu wykazuje zdolność utleniającego roztwarzania metali – tak jak kwas azotowy(V) w wodzie. Reakcja miedzi z azotanem(V) amonu w skroplonym amoniaku przebiega zgodnie ze schematem:



Na podstawie: L. Kolditz (red.), *Chemia nieorganiczna*, Warszawa 1994.

Napisz w formie jonowej skróconej, z uwzględnieniem liczby oddawanych lub pobieranych elektronów (zapis jonowo-elektronowy), równania procesów redukcji i utleniania zachodzących podczas opisanej przemiany. Uwzględnij środowisko reakcji – obecność jonów NH_4^+ . Określ stosunek molowy reduktora do utleniacza w tej reakcji.

Równanie procesu redukcji:

.....

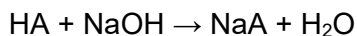
Równanie procesu utleniania:

.....

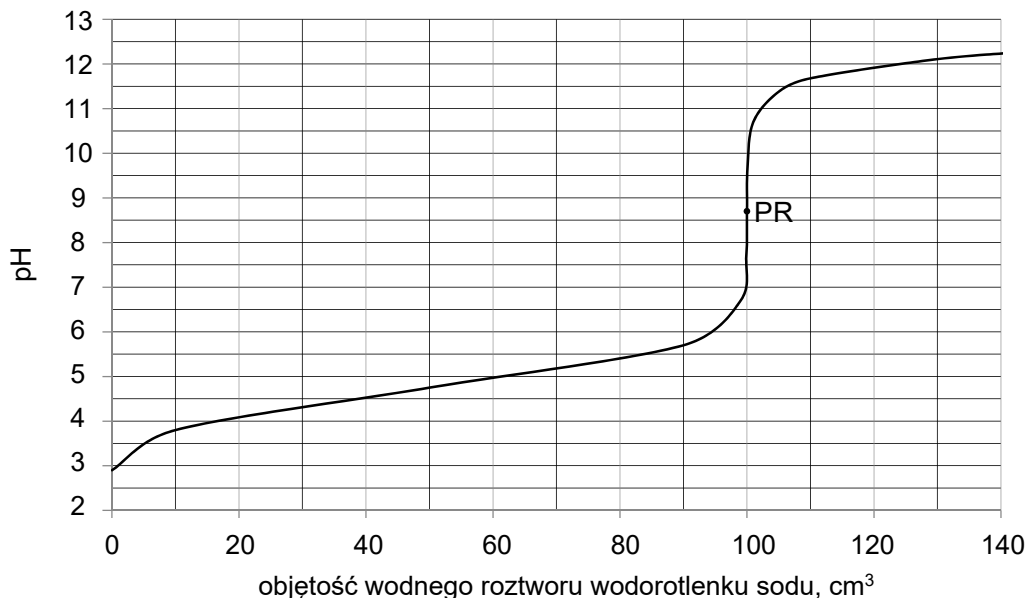
Stosunek molowy $n_{\text{reduktora}} : n_{\text{utleniacza}} =$

Informacja do zadań 15.–16.

Przeprowadzono doświadczenie, podczas którego do kolby zawierającej 100 cm³ wodnego roztworu jednoprotowego kwasu HA dodawano porcjami wodny roztwór wodorotlenku sodu o stężeniu 0,1 mol · dm⁻³ i mierzono pH mieszaniny reakcyjnej. Podczas doświadczenia zachodziła reakcja opisana schematem:



Doświadczenie prowadzono w temperaturze 25 °C. Jego przebieg zilustrowano poniższym wykresem, zwanym krzywą miareczkowania.



Po dodaniu takiej objętości roztworu wodorotlenku sodu, w jakiej znajdowała się liczba moli NaOH równa liczbie moli kwasu HA w roztworze wziętym do analizy, w układzie został osiągnięty punkt równoważnikowy (PR). W opisanym doświadczeniu pH w punkcie równoważnikowym było równe 8,6.

Zadanie 15. (0–1)

Po wykonaniu doświadczenia sformułowano następujący wniosek:

Na podstawie otrzymanych wyników można jednoznacznie stwierdzić, że kwas HA nie jest mocnym elektrolitem.

Rozstrzygnij, czy powyższy wniosek jest prawdziwy. Uzasadnij swoją odpowiedź – napisz w formie jonowej skróconej równanie reakcji ilustrujące równowagę, która ustaliła się w punkcie równoważnikowym. Użyj ogólnego wzoru kwasu HA.

Rozstrzygnięcie:

Równanie reakcji ilustrujące stan równowagi:

.....

Zadanie 16.

Krzywa miareczkowania może służyć do wyznaczenia wartości stałej dysocjacji kwasu (K_a), a przez to pozwala zidentyfikować kwas poddawany miareczkowaniu. Jedną z metod polega na wyznaczeniu tak zwanego punktu połowicznego zmiareczkowania (PP), w którym stężenie HA jest równe stężeniu A^- .

Stała równowagi dysocjacji kwasu HA opisana jest wyrażeniem:

$$K_a = \frac{[H_3O^+] \cdot [A^-]}{[HA]}, \quad \text{czyli} \quad [H_3O^+] = \frac{K_a \cdot [HA]}{[A^-]}$$

Stężenie HA jest równe stężeniu A^- po dodaniu połowy objętości roztworu NaOH potrzebnej do osiągnięcia punktu równoważnikowego (PR). Wtedy:

$$[H_3O^+] = K_a, \quad \text{czyli} \\ \text{pH} = -\log [H_3O^+] = -\log K_a = \text{p}K_a$$

Tak więc w punkcie połowicznego zmiareczkowania pH jest równe $-\log K_a$.

Zadanie 16.1. (0–2)

Odczytaj z wykresu krzywej miareczkowania i napisz wartość pH w punkcie połowicznego zmiareczkowania (PP). Który z wymienionych poniżej kwasów mógł być użyty w opisanym doświadczeniu? Wybierz i zaznacz jego wzór.

Wartość pH w punkcie połowicznego zmiareczkowania:

Wzór kwasu:

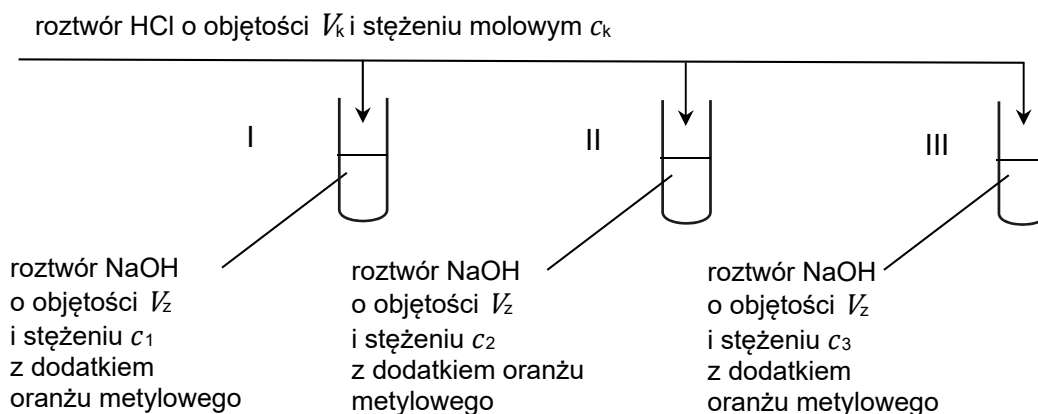
**Zadanie 16.2. (0–1)**

Oceń prawdziwość poniższych zdań. Zaznacz P, jeżeli zdanie jest prawdziwe, albo F – jeśli jest fałszywe.

1.	Stężenie miareczkowanego kwasu wynosiło 0,2 mol · dm ⁻³ .	P	F
2.	W punkcie połowicznego zmiareczkowania (PP) stężenie anionów wodorotlenkowych jest niższe niż stężenie kationów sodu.	P	F
3.	W punkcie równoważnikowym (PR) w roztworze <u>nie ma</u> niezdisocjowanych cząsteczek kwasu HA.	P	F

Zadanie 17.

Do trzech probówek wprowadzono takie same objętości wodnego roztworu wodorotlenku sodu (V_2) o trzech różnych stężeniach molowych (c_1, c_2, c_3) i dodano do nich po 2 krople roztworu oranżu metylowego. Do probówek dodano następnie, mieszając, takie same objętości kwasu solnego (V_k) o znanym stężeniu molowym (c_k). Przebieg doświadczenia zilustrowano na poniższym schemacie.



Po zakończeniu doświadczenia okazało się, że zmiana barwy roztworu nastąpiła tylko w probówce II.

Zadanie 17.1. (0–1)

Uzupełnij poniższą tabelę. Napisz, jaką barwę miał roztwór w probówce II przed reakcją i po zakończeniu reakcji.

Barwa roztworu w probówce II	
<u>przed</u> reakcją	<u>po</u> reakcji

Zadanie 17.2. (0–2)

Rozstrzygnij, czy na podstawie przeprowadzonego doświadczenia można jednoznacznie wskazać, w której probówce znajdował się:

- roztwór NaOH o najwyższym stężeniu. Odpowiedź uzasadnij.

Rozstrzygnięcie:

Uzasadnienie:

.....

.....

- roztwór NaOH o najniższym stężeniu. Odpowiedź uzasadnij.

Rozstrzygnięcie:

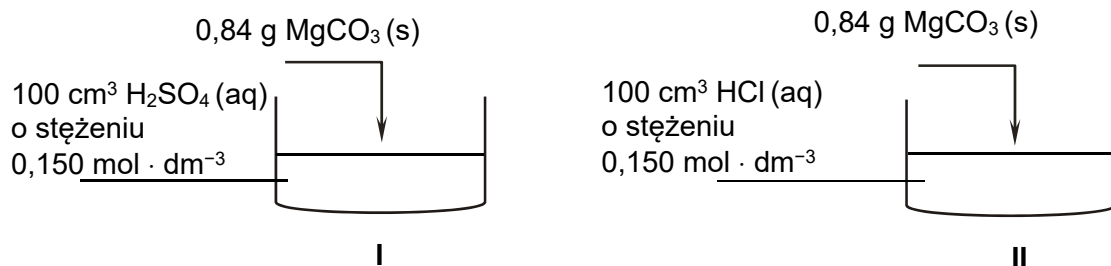
Uzasadnienie:

.....

.....

Informacja do zadań 19.–21.

Przeprowadzono doświadczenie 1. zgodnie z poniższym schematem.



Następnie wykonano doświadczenie 2., do którego użyto roztworów tych samych kwasów – o takiej samej objętości i stężeniu jak roztwory użyte w doświadczeniu 1. W doświadczeniu 2. do roztworów dodano jednak inną sól – Na₂CO₃ – o masie 0,53 g.

Zadanie 19. (0–1)

Napisz w formie jonowej skróconej równanie reakcji zachodzącej w doświadczeniu 1. podczas dodawania węgla magnezu do zlewki.

.....

Zadanie 20. (0–1)

Rozstrzygnij, czy po zakończeniu doświadczenia 1. z użyciem węgla magnezu w każdej zlewce otrzymano mieszaninę jednorodną. Odpowiedź uzasadnij.

	Zlewka I	Zlewka II
Rozstrzygnięcie		
Uzasadnienie		

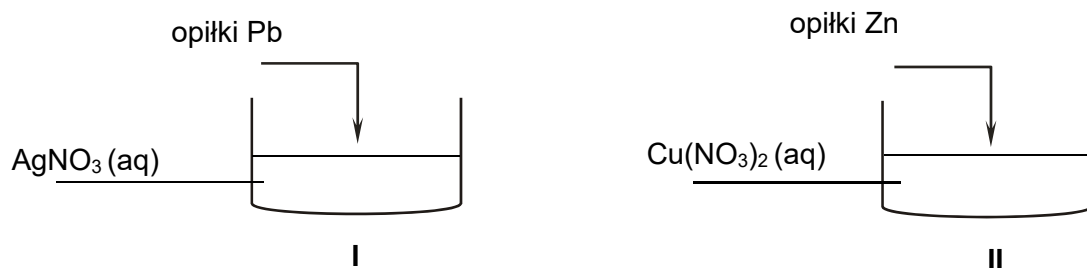
Zadanie 21. (0–1)

Oceń prawdziwość poniższych zdań. Zaznacz P, jeżeli zdanie jest prawdziwe, albo F – jeśli jest fałszywe.

1.	W doświadczeniu 1. w reakcji kwasu siarkowego(VI) z węglanem magnezu wydzieliło się <u>mniej</u> gazu niż w doświadczeniu 2. w reakcji kwasu siarkowego(VI) z węglanem sodu.	P	F
2.	W doświadczeniu 2., w którym użyto węgla sodu, w zlewkach I i II wydzieliło się tyle samo gazu.	P	F
3.	Po zakończeniu reakcji w zlewce II z użyciem węgla sodu (doświadczenie 2.) odczyn roztworu był kwasowy.	P	F

Zadanie 23.

Przeprowadzono doświadczenie zgodnie z poniższym schematem.

**Zadanie 23.1. (0–2)**

Napisz w formie jonowej skróconej równanie reakcji zachodzącej po dodaniu opłuków ołowiu do zlewki I. Rozstrzygnij, czy po zakończeniu doświadczenia masa roztworu w zlewce I wzrosła czy zmalała. Odpowiedź uzasadnij.

Równanie zachodzącej reakcji:

.....

Rozstrzygnięcie:

Uzasadnienie:

.....

Zadanie 23.2. (0–1)


Po zakończeniu doświadczenia na dnie zlewki II znajdowały się dwa metale: cynk oraz miedź.

Uzupełnij poniższą tabelę. Napisz, jaką barwę miał roztwór w probówce II przed reakcją i po jej zakończeniu.

Barwa roztworu w zlewce II	
<u>przed</u> doświadczeniem	<u>po</u> zakończeniu doświadczenia

Zadanie 24.

Poniżej przedstawiono równania protolizy (dysocjacji) wielostopniowej kwasu ortofosforowego(V) oraz wartości stałych dysocjacji tych procesów.

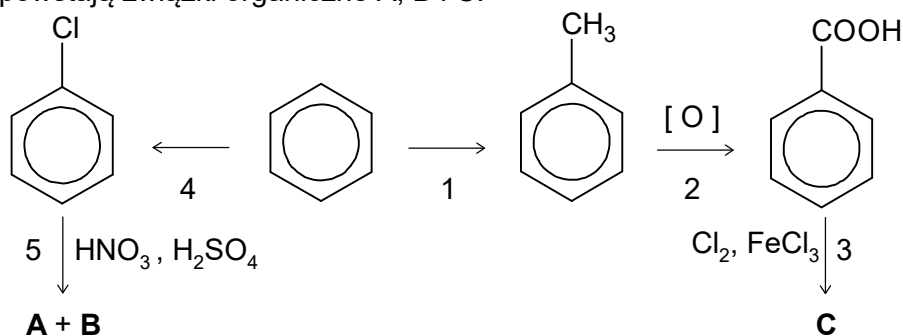


Na podstawie: A. Bielański, *Podstawy chemii nieorganicznej*, Warszawa 2004.

Informacja do zadań 28.–29.

Podstawnik w pierścieniu aromatycznym wpływa na miejsce wprowadzenia następnego podstawnika do pierścienia. Grupy alkilowe, $-\text{Cl}$, $-\text{Br}$, $-\text{NH}_2$, $-\text{OH}$ kierują następny wprowadzany podstawnik w pozycje 2- i 4- (*orto*- i *para*-) w stosunku do własnego położenia. Gdy w pierścieniu znajdują się grupy $-\text{NO}_2$, $-\text{COOH}$ czy $-\text{CHO}$, to następny podstawnik jest wprowadzany głównie w pozycję 3- (*meta*-).

Na poniższym schemacie zilustrowano ciąg przemian chemicznych, w wyniku których z benzenu powstają związki organiczne A, B i C.

**Zadanie 28. (0–1)**

Oceń prawdziwość poniższych zdań. Zaznacz P, jeżeli zdanie jest prawdziwe, albo F – jeżeli jest fałszywe.

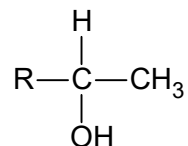
1.	Przemiana oznaczona numerem 4 to przykład reakcji substytucji przebiegającej według mechanizmu rodnikowego.	P	F
2.	W przemianie oznaczonej numerem 2 formalny stopień utlenienia atomu węgla połączonego bezpośrednio z pierścieniem benzenowym wzrasta o 6.	P	F
3.	Związek C, będący głównym produktem reakcji oznaczonej numerem 3, to kwas 3-chlorobenzenokarboksylowy (3-chlorobenzoesowy).	P	F

Zadanie 29. (0–1)

Napisz wzory półstrukturalne (grupowe) lub uproszczone związków A i B, które są głównymi produktami przemiany oznaczonej na schemacie numerem 5.

Informacja do zadań 30.–33.

Próba jodoformowa polega na działaniu jodem w roztworze wodorotlenku sodu na badany związek organiczny. O pozytywnym wyniku eksperymentu świadczy pojawienie się żółtego osadu trijodometanu nazywanego jodoformem. Taki wynik wskazuje m.in. na obecność grupy metylowej w sąsiedztwie grupy karbonylowej w cząsteczce. Próba jodoformowa pozwala również na wykrycie obecności alkoholi o strukturze:

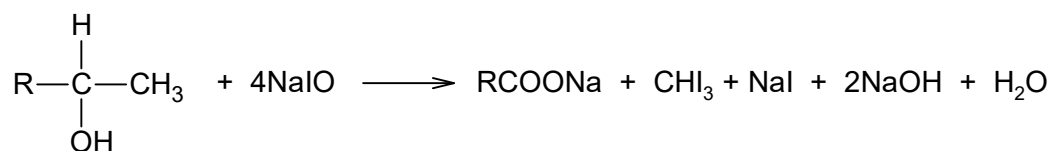


gdzie R oznacza atom wodoru, grupę alkilową lub arylową.

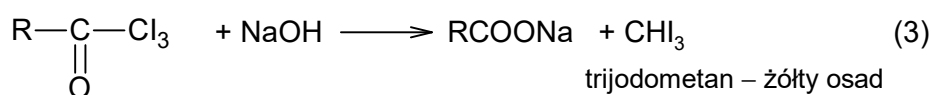
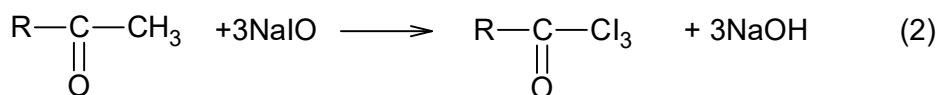
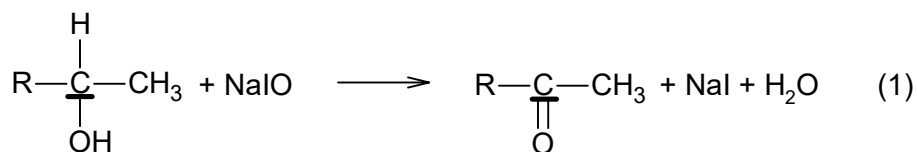
Jod reaguje z wodorotlenkiem sodu zgodnie z równaniem:



Następnie jeden z produktów tej reakcji – związek o wzorze NaIO – reaguje z alkoholem:



Reakcja przebiega w trzech etapach (C – podkreślony atom węgla):



Na podstawie: R. T. Morrison, R. N. Boyd, *Chemia organiczna*, Warszawa 1996.

Zadanie 30. (0–1)

Określ stopnie utlenienia atomu jodu i podkreślonego atomu węgla w reakcji etapu (1). Przyjmij, że w reakcji tej R to grupa metylowa –CH₃. Uzupełnij poniższą tabelę.

	Stopień utlenienia atomu	
	jodu	węgla
w substracie reakcji		
w produkcie reakcji		

Zadanie 31. (0–1)

Spośród wymienionych niżej alkoholi wybierz wszystkie, które dają pozytywny wynik próby jodoformowej. Podkreśl nazwy wybranych związków.

2-metylopropan-2-ol pentan-2-ol pentan-3-ol 1-fenyletanol

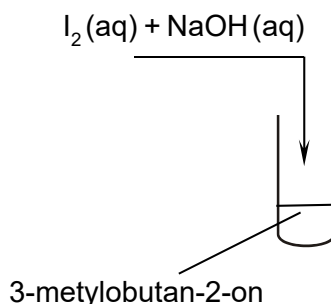
Zadanie 32. (0–1)

Uzupełnij poniższy schemat. Napisz w formie cząsteczkowej sumaryczne równanie próby jodoformowej przebiegającej po dodaniu do etanolu wodnych roztworów jodu i wodorotlenku sodu. Napisz wzory produktów i dobierz współczynniki stechiometryczne. Zastosuj wzory półstrukturalne (grupowe) związków organicznych.

... I₂ + ... NaOH + ... CH₃CH₂OH → + + +

Zadanie 33. (0–1)

Przeprowadzono doświadczenie, którego przebieg zilustrowano na poniższym schemacie.



Napisz, czy w wyniku tego doświadczenia w probówce powstał żółty osad jodoformu. Odpowiedź uzasadnij. Odnieś się do budowy cząsteczki badanej substancji.

W probówce (powstał / nie powstał) żółty osad jodoformu.

Uzasadnienie:

.....

Informacja do zadań 34.–36.

Nasycony związek organiczny X o czterech atomach węgla zawiera w cząsteczce dwie różne grupy funkcyjne, które reagują z sodem, ale tylko jedna z nich – z wodorotlenkiem sodu. W wyniku utleniania związku X za pomocą jonów dichromianowych(VI) w obecności jonów H^+ otrzymuje się kwas bursztynowy o wzorze $HOOC-CH_2-CH_2-COOH$.

Zadanie 34. (0–2)

Uzupełnij poniższą tabelę. Narysuj wzory półstrukturalne (grupowe) związku X oraz jednego izomeru związku X o budowie łańcuchowej, którego cząsteczki są chiralne. Zaznacz (*) asymetryczny atom węgla (centrum stereogeniczne).

Wzór związku X	Wzór izomeru związku X

Zadanie 35. (0–2)

Napisz:

- wzór półstrukturalny (grupowy) organicznego produktu reakcji, który powstałby, gdyby związek X przereagował z nadmiarem sodu;

.....

- w formie cząsteczkowej równanie reakcji kwasu bursztynowego z nadmiarem wodorotlenku sodu. Związki organiczne przedstaw za pomocą wzorów półstrukturalnych (grupowych).

.....

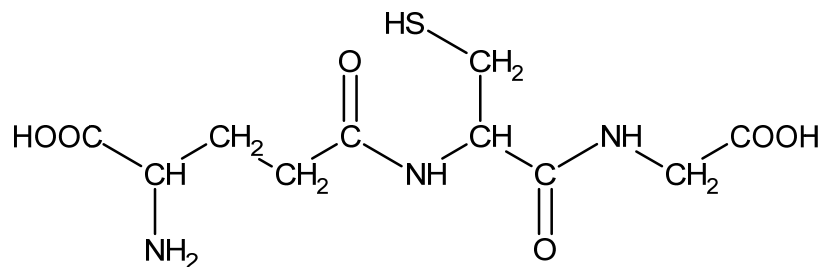
Zadanie 36. (0–1)

W wysokiej temperaturze kwas bursztynowy $HOOC-CH_2-CH_2-COOH$ ulega odwodnieniu. Jedna cząsteczka kwasu bursztynowego odszczepia jedną cząsteczkę wody i tworzy bezwodnik, którego cząsteczka ma strukturę pierścienia pięciocłonowego.

Narysuj wzór półstrukturalny (grupowy) bezwodnika kwasu bursztynowego.

Informacja do zadań 37.–38.

Glutation to tripeptyd występujący w komórkach organizmów roślinnych i zwierzęcych. Poniżej przedstawiono jego wzór półstrukturalny (grupowy).

**Zadanie 37. (0–1)**

Napisz nazwy zwyczajowe aminokwasów, które powstają w wyniku całkowitej hydrolizy glutationu.

Zadanie 38. (0–2)

Wykonano doświadczenie, w którym do dwóch probówek z tym samym odczynnikiem wprowadzono wodne roztwory:


- do probówki I – wodny roztwór glutationu
- do probówki II – wodny roztwór powstały po całkowitej hydrolizie glutationu.

W jednej z probówek zaobserwowano powstanie różowofioletowego roztworu.


Uzupełnij schemat doświadczenia. Podkreśl nazwę odczynnika, który – po dodaniu do niego roztworów glutationu oraz produktów jego hydrolizy i wymieszaniu zawartości każdej probówki – pozwoli na uzyskanie opisanego wyniku doświadczenia. Napisz numer probówki, w której zaobserwowano opisaną zmianę.

roztwór glutationu
roztwór z produktami hydrolizy glutationu

I



II



Odczynnik:

- zawiesina świeżo wytrąconego wodorotlenku miedzi(II)
- odczynnik Tollensa
- alkoholowy roztwór fenoloftaleiny

Numer probówki:

BRUDNOPIS (*nie podlega ocenie*)

Więcej arkuszy znajdziesz na stronie: arkusze.pl

Więcej arkuszy znajdziesz na stronie: arkusze.pl

Więcej arkuszy znajdziesz na stronie: arkusze.pl